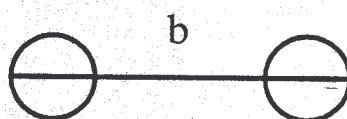
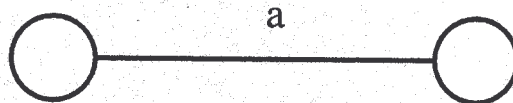


## La vista enganya

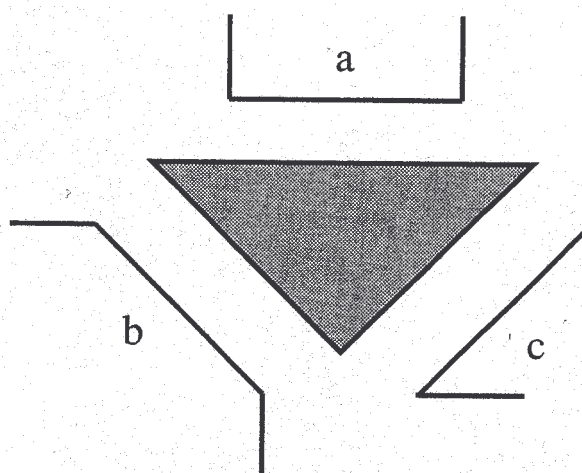
Quin segment és més llarg, l'a o el b?



Quin segment és més llarg, l'a o el b?



Quin segment és més llarg, l'a, el b o el c?



Comproveu les vostres respostes amb un regle.